



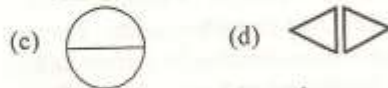

12. The product of two number is 182. If one number is 14 then the other number is
 (a) 13 (b) 15
 (c) 14 (d) 16
13. Write the time shown in the clock.
 (a) 9:10
 (b) 10:10
 (c) 2:10
 (d) 10:20
- 
14. How many corners are there in the figure?

 (a) 3 (b) 4 (c) 5 (d) 6
15. An odd number is added to another odd number always gives :
 (a) Odd number (b) Even number
 (c) Prime number (d) None of the above
16. How many times does 4 divide 16?
 (a) 4 times (b) 5 times
 (c) 3 times (d) 6 times
17. 31 multiplied by 1 is
 (a) 1 (b) 31
 (c) 13 (d) 0
18. What is the difference between 515 liters and 500 milliliters and 329 liters and 300 milliliters?
 (a) 186 liters 200 milliliters
 (b) 200 liters 186 milliliters
 (c) 300 liters 180 milliliters
 (d) 250 liters 180 milliliters
19. Write in short form $600 + 70 + 4$
 (a) 764 (b) 476
 (c) 674 (d) 467
20. The quotient of $465 \div 3$ is
 (a) 155 (b) 130 (c) 100 (d) 80
21. Quarter to 6 in the evening = ----- .
 (a) 5:35 (b) 6:45
 (c) 5:45 (d) 5:15
22. Shape of a ball is
 (a) Cone (b) Rectangle
 (c) Square (d) Round
23. A coconut weighs 550 grams and a pumpkin weighs 1 kilogram. Which has more weight?
 (a) Coconut
 (b) Pumpkin
 (c) Both weight same
 (d) None of these
24. Write the place of underlined digit in 9347.
 (a) Tens (b) Hundred
 (c) Ones (d) Thousand
25. Which number is expressed in the expanded form?
 $4 \times 1000 + 0 \times 100 + 0 \times 10 + 6 \times 1$
 (a) 40006 (b) 4006
 (c) 406 (d) 46
26. On adding zero to any number, you get
 (a) The number itself
 (b) Zero
 (c) Ten times the number
 (d) 1
27. Numbers that cannot be divided by two are called
 (a) Odd number
 (b) Prime number
 (c) Even number
 (d) Composite number
28. _____ is the reverse of division.
 (a) Subtraction
 (b) Multiplication
 (c) Addition
 (d) None of these

29. The odd number in these digits is :
(18, 28, 38, 37, 48)
(a) 18 (b) 28
(c) 38 (d) 37
30. The duration of time from one mid-night to the next mid-night is :
(a) 12 hrs. (b) 6 hrs.
(c) 24 hrs. (d) 18 hrs.
31. What does the Roman Numeral XV stands for?
(a) 15 (b) 25
(c) 12 (d) 16
32. What is the difference of 76 metres 45 centimetres and 32 metres 24 cm. ?
(a) 44 m 21 cm
(b) 54 m 21 cm
(c) 34 m 12 cm
(d) 21 m 34 cm
33. Which of the following has only curved surface ?
(a) Dice (b) Ball
(c) Bucket (d) Book
34. If 18 is divided by 5 the remainder will be:
(a) Zero (b) Three
(c) Five (d) Eighteen
35. 1 liter is:
(a) 100 ml
(b) 1000 ml
(c) 1000 l
(d) 10000 ml
36. If a book costs Rs. 15.50, how much will 9 pens cost ?
(a) Rs. 139.50
(b) Rs. 139
(c) Rs. 143.50
(d) Rs. 140.50
37. Find out the odd no. in the following:
840, 640, 440, 101
(a) 640 (b) 440
(c) 101 (d) 840
38. The decimal value of $\frac{245}{100}$ is
(a) 2.45 (b) 24.5
(c) 0.245 (d) 245
39. There are 4 packets of toffees. Two packets had 35 toffees each. The third packet contains 30 toffees and the fourth packet had only 25 toffees. What is the total number of toffees?
(a) 125 (b) 150
(c) 135 (d) 120
40. How many days are there in a fortnight ?
(a) 7 (b) 10
(c) 14 (d) 30
41. Arrange the following in increasing order 201, 210, 211, 200
(a) 201, 211, 200, 210
(b) 200, 201, 210, 211
(c) 211, 210, 201, 200
(d) 210, 211, 200, 201
42. The difference between $788 - 108$ is :
(a) 608 (b) 680
(c) 688 (d) 618
43. $9415 \div 9415 = \dots\dots\dots$
(a) 0 (b) 2
(c) 1 (d) Both 'a' and 'c'
44. Write the number name of 706.
(a) Seven hundred and six
(b) Seventy six
(c) Seven hundred sixty
(d) Seven hundred and sixteen

45. 5 Km 20 m = ----- m.

- (a) 5020 m
- (b) 520 m
- (c) 5120 m
- (d) 502 m


46. Find out the figures which show two equal parts of one whole .



- (a) b, c, a
- (b) a, b, c
- (c) a, c, d
- (d) c, d, b

47. How many sides are there in figure ?

- (a) 4
- (b) 5
- (c) 3
- (d) 6



48. $\frac{2}{3} + \frac{2}{3} =$ -----

- (a) $\frac{4}{6}$
- (b) $\frac{22}{3}$
- (c) $\frac{4}{3}$
- (d) $\frac{22}{33}$

49. The shape of a page of a book is

- (a) Circle
- (b) Rectangle
- (c) Cone
- (d) Triangle

50. Rs. 1.70 = ----- Paise.

- (a) 700 P
- (b) 7 P
- (c) 170 P
- (d) 71 P

ANSWER BLOCK - 02																									
12	1.	<input type="text"/>	<input type="text"/>	<input type="text"/>	<input type="text"/>	11.	<input type="text"/>	<input type="text"/>	<input type="text"/>	<input type="text"/>	21.	<input type="text"/>	<input type="text"/>	<input type="text"/>	<input type="text"/>	31.	<input type="text"/>	<input type="text"/>	<input type="text"/>	<input type="text"/>	41.	<input type="text"/>	<input type="text"/>	<input type="text"/>	<input type="text"/>
	2.	<input type="text"/>	<input type="text"/>	<input type="text"/>	<input type="text"/>	12.	<input type="text"/>	<input type="text"/>	<input type="text"/>	<input type="text"/>	22.	<input type="text"/>	<input type="text"/>	<input type="text"/>	<input type="text"/>	32.	<input type="text"/>	<input type="text"/>	<input type="text"/>	<input type="text"/>	42.	<input type="text"/>	<input type="text"/>	<input type="text"/>	<input type="text"/>
	3.	<input type="text"/>	<input type="text"/>	<input type="text"/>	<input type="text"/>	13.	<input type="text"/>	<input type="text"/>	<input type="text"/>	<input type="text"/>	23.	<input type="text"/>	<input type="text"/>	<input type="text"/>	<input type="text"/>	33.	<input type="text"/>	<input type="text"/>	<input type="text"/>	<input type="text"/>	43.	<input type="text"/>	<input type="text"/>	<input type="text"/>	<input type="text"/>
	4.	<input type="text"/>	<input type="text"/>	<input type="text"/>	<input type="text"/>	14.	<input type="text"/>	<input type="text"/>	<input type="text"/>	<input type="text"/>	24.	<input type="text"/>	<input type="text"/>	<input type="text"/>	<input type="text"/>	34.	<input type="text"/>	<input type="text"/>	<input type="text"/>	<input type="text"/>	44.	<input type="text"/>	<input type="text"/>	<input type="text"/>	<input type="text"/>
	5.	<input type="text"/>	<input type="text"/>	<input type="text"/>	<input type="text"/>	15.	<input type="text"/>	<input type="text"/>	<input type="text"/>	<input type="text"/>	25.	<input type="text"/>	<input type="text"/>	<input type="text"/>	<input type="text"/>	35.	<input type="text"/>	<input type="text"/>	<input type="text"/>	<input type="text"/>	45.	<input type="text"/>	<input type="text"/>	<input type="text"/>	<input type="text"/>
	6.	<input type="text"/>	<input type="text"/>	<input type="text"/>	<input type="text"/>	16.	<input type="text"/>	<input type="text"/>	<input type="text"/>	<input type="text"/>	26.	<input type="text"/>	<input type="text"/>	<input type="text"/>	<input type="text"/>	36.	<input type="text"/>	<input type="text"/>	<input type="text"/>	<input type="text"/>	46.	<input type="text"/>	<input type="text"/>	<input type="text"/>	<input type="text"/>
	7.	<input type="text"/>	<input type="text"/>	<input type="text"/>	<input type="text"/>	17.	<input type="text"/>	<input type="text"/>	<input type="text"/>	<input type="text"/>	27.	<input type="text"/>	<input type="text"/>	<input type="text"/>	<input type="text"/>	37.	<input type="text"/>	<input type="text"/>	<input type="text"/>	<input type="text"/>	47.	<input type="text"/>	<input type="text"/>	<input type="text"/>	<input type="text"/>
	8.	<input type="text"/>	<input type="text"/>	<input type="text"/>	<input type="text"/>	18.	<input type="text"/>	<input type="text"/>	<input type="text"/>	<input type="text"/>	28.	<input type="text"/>	<input type="text"/>	<input type="text"/>	<input type="text"/>	38.	<input type="text"/>	<input type="text"/>	<input type="text"/>	<input type="text"/>	48.	<input type="text"/>	<input type="text"/>	<input type="text"/>	<input type="text"/>
	9.	<input type="text"/>	<input type="text"/>	<input type="text"/>	<input type="text"/>	19.	<input type="text"/>	<input type="text"/>	<input type="text"/>	<input type="text"/>	29.	<input type="text"/>	<input type="text"/>	<input type="text"/>	<input type="text"/>	39.	<input type="text"/>	<input type="text"/>	<input type="text"/>	<input type="text"/>	49.	<input type="text"/>	<input type="text"/>	<input type="text"/>	<input type="text"/>
	10.	<input type="text"/>	<input type="text"/>	<input type="text"/>	<input type="text"/>	20.	<input type="text"/>	<input type="text"/>	<input type="text"/>	<input type="text"/>	30.	<input type="text"/>	<input type="text"/>	<input type="text"/>	<input type="text"/>	40.	<input type="text"/>	<input type="text"/>	<input type="text"/>	<input type="text"/>	50.	<input type="text"/>	<input type="text"/>	<input type="text"/>	<input type="text"/>