

13. Write the time shown in the clock.

- (a) 9:10
- (b) 10:10
- (c) 2:10
- (d) 10:20



14. Ashish is 7 years old. His mother is 30 years old. How old will Ashish be when his mother is 43 years old?

- (a) 20 years
- (b) 23 years
- (c) 32 years
- (d) 36 years

15. An odd number is added to another odd number always gives :

- (a) Odd number
- (b) Even number
- (c) Prime number
- (d) None of the above

16. Look at the figure & write fraction representing shaded of part.

- (a) $\frac{2}{4}$
- (b) $\frac{2}{3}$
- (c) $\frac{2}{5}$
- (d) $\frac{1}{4}$



17. 17 multiplied by 1 is

- (a) 1
- (b) 17
- (c) 19
- (d) 71

18. Geeta has 76 dolls. Out of these 32 were broken. How many dolls are left with Geeta now?

- (a) 42
- (b) 43
- (c) 44
- (d) 45

19. Write in short form $900 + 80 + 7$

- (a) 897
- (b) 798
- (c) 987
- (d) 789

20. The quotient of $845 \div 7$ is

- (a) 120
- (b) 130
- (c) 110
- (d) 150

21. Quarter to 6 in the evening = -----

- (a) 5:35
- (b) 6:45
- (c) 5:45
- (d) 5:15

22. Shape of tube light is

- (a) Cone
- (b) Rectangle
- (c) Square
- (d) Cylinder

23. Betty needed 90 flowers. She collected 55 flowers. How many flowers does she have to collect more?

- (a) 90
- (b) 15
- (c) 35
- (d) 53

24. Write the place of underlined digit in 8345.

- (a) Tens
- (b) Hundred
- (c) Ones
- (d) Thousand

25. The greatest number in these numbers (387, 473, 378, 437) is.

- (a) 387
- (b) 437
- (c) 378
- (d) 473

26. The shape of the dice is :

- (a) Cube
- (b) Sphere
- (c) Cylinder
- (d) Triangle

27. Numbers that cannot be divided by two are called

- (a) Odd number
- (b) Prime number
- (c) Even number
- (d) Composite number

28. What part of the figure is shaded?

- (a) $\frac{3}{8}$
- (b) $\frac{8}{3}$
- (c) $\frac{3}{5}$
- (d) $\frac{5}{3}$



29. The odd number in these digits is :

- (18, 28, 38, 37, 48)
- (a) 18
- (b) 28
- (c) 38
- (d) 37

30. The duration of time from one mid-night to the next mid-night is :

- (a) 12 hrs.
- (b) 6 hrs.
- (c) 24 hrs.
- (d) 18 hrs.

31. Put the correct sign XI _____ IX .

- (a) < (b) =
 (c) > (d) None

32. What is the difference of 76 metres 45 centimetres and 32 metres 24 cm. ?

- (a) 44 m 21 cm
 (b) 54 m 21 cm
 (c) 34 m 12 cm
 (d) 21 m 34 cm

33. Which of the following has only curved surface ?

- (a) Dice (b) Ball
 (c) Bucket (d) Book

34. Write the fractional number name for $\frac{2}{3}$.

- (a) Two - Three
 (b) Three by Two
 (c) Two - Third
 (d) Three - Two

35. $5 \times \frac{8}{5} = \dots \times 5$

- (a) 5 (b) $\frac{8}{5}$ (c) $\frac{5}{8}$ (d) $\frac{1}{5}$

36. If a pen costs Rs. 15.45, how much will 8 pens cost ?

- (a) Rs. 122.60
 (b) Rs. 124.60
 (c) Rs. 123.60
 (d) Rs. 125.60

37. How many edges are there in this figure ?

- (a) 1
 (b) 2
 (c) 3
 (d) 0



38. The decimal value of $\frac{245}{100}$ is

- (a) 2.45 (b) 24.5
 (c) 0.245 (d) 245


39. The following pictograph shows the number of animals in the Zoo.

Lion 

Elephant 

Deer 

Monkey 

Key :  represents 8 animals
 How many elephants are there in the Zoo ?

- (a) 32 (b) 40
 (c) 48 (d) 24

40. How many days are there in a fortnight ?

- (a) 7 (b) 10
 (c) 14 (d) 30

41. There are ___ numbers between 76 to 80.

- (a) 5 (b) 3
 (c) 4 (d) 2

42. The difference between $788 - 108$ is :

- (a) 608 (b) 680
 (c) 688 (d) 618

43. $9415 \div 9415 = \dots$

- (a) 0 (b) 2
 (c) 1 (d) Both 'a' and 'c'

44. Number to come in place of ?





- (a) 30
 (b) 42
 (c) 36
 (d) 48

2	16
3	24
4	32
5	40
6	?

45. 5 Km 20 m = _____ m.

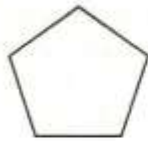
- (a) 5020 m
 (b) 520 m
 (c) 5120 m
 (d) 502 m

46. Find out the figures which show two equal parts of one whole .

- (a)  (b) 
- (c)  (d) 
- (a) b, c, a (b) a, b, c
(c) a, c, d (d) c, d, b

47. How many sides are there in figure

- (a) 4
(b) 5
(c) 3
(d) 6



48. $\frac{2}{3} + \frac{2}{3} = \text{-----}$

- (a) $\frac{4}{6}$ (b) $\frac{22}{3}$
(c) $\frac{4}{3}$ (d) $\frac{22}{33}$

49. If we subtract 26 from 87, the result is

- (a) 61 (b) 51
(c) 113 (d) 80

50. Rs.0.70 = ----- Paise.

- (a) 700 P
(b) 7 P
(c) 70 P
(d) 71 P

09 ANSWER BLOCK - 02																			
1. <input type="text"/>	<input type="text"/>	<input type="text"/>	<input type="text"/>	11. <input type="text"/>	<input type="text"/>	<input type="text"/>	<input type="text"/>	21. <input type="text"/>	<input type="text"/>	<input type="text"/>	<input type="text"/>	31. <input type="text"/>	<input type="text"/>	<input type="text"/>	<input type="text"/>	41. <input type="text"/>	<input type="text"/>	<input type="text"/>	<input type="text"/>
2. <input type="text"/>	<input type="text"/>	<input type="text"/>	<input type="text"/>	12. <input type="text"/>	<input type="text"/>	<input type="text"/>	<input type="text"/>	22. <input type="text"/>	<input type="text"/>	<input type="text"/>	<input type="text"/>	32. <input type="text"/>	<input type="text"/>	<input type="text"/>	<input type="text"/>	42. <input type="text"/>	<input type="text"/>	<input type="text"/>	<input type="text"/>
3. <input type="text"/>	<input type="text"/>	<input type="text"/>	<input type="text"/>	13. <input type="text"/>	<input type="text"/>	<input type="text"/>	<input type="text"/>	23. <input type="text"/>	<input type="text"/>	<input type="text"/>	<input type="text"/>	33. <input type="text"/>	<input type="text"/>	<input type="text"/>	<input type="text"/>	43. <input type="text"/>	<input type="text"/>	<input type="text"/>	<input type="text"/>
4. <input type="text"/>	<input type="text"/>	<input type="text"/>	<input type="text"/>	14. <input type="text"/>	<input type="text"/>	<input type="text"/>	<input type="text"/>	24. <input type="text"/>	<input type="text"/>	<input type="text"/>	<input type="text"/>	34. <input type="text"/>	<input type="text"/>	<input type="text"/>	<input type="text"/>	44. <input type="text"/>	<input type="text"/>	<input type="text"/>	<input type="text"/>
5. <input type="text"/>	<input type="text"/>	<input type="text"/>	<input type="text"/>	15. <input type="text"/>	<input type="text"/>	<input type="text"/>	<input type="text"/>	25. <input type="text"/>	<input type="text"/>	<input type="text"/>	<input type="text"/>	35. <input type="text"/>	<input type="text"/>	<input type="text"/>	<input type="text"/>	45. <input type="text"/>	<input type="text"/>	<input type="text"/>	<input type="text"/>
6. <input type="text"/>	<input type="text"/>	<input type="text"/>	<input type="text"/>	16. <input type="text"/>	<input type="text"/>	<input type="text"/>	<input type="text"/>	26. <input type="text"/>	<input type="text"/>	<input type="text"/>	<input type="text"/>	36. <input type="text"/>	<input type="text"/>	<input type="text"/>	<input type="text"/>	46. <input type="text"/>	<input type="text"/>	<input type="text"/>	<input type="text"/>
7. <input type="text"/>	<input type="text"/>	<input type="text"/>	<input type="text"/>	17. <input type="text"/>	<input type="text"/>	<input type="text"/>	<input type="text"/>	27. <input type="text"/>	<input type="text"/>	<input type="text"/>	<input type="text"/>	37. <input type="text"/>	<input type="text"/>	<input type="text"/>	<input type="text"/>	47. <input type="text"/>	<input type="text"/>	<input type="text"/>	<input type="text"/>
8. <input type="text"/>	<input type="text"/>	<input type="text"/>	<input type="text"/>	18. <input type="text"/>	<input type="text"/>	<input type="text"/>	<input type="text"/>	28. <input type="text"/>	<input type="text"/>	<input type="text"/>	<input type="text"/>	38. <input type="text"/>	<input type="text"/>	<input type="text"/>	<input type="text"/>	48. <input type="text"/>	<input type="text"/>	<input type="text"/>	<input type="text"/>
9. <input type="text"/>	<input type="text"/>	<input type="text"/>	<input type="text"/>	19. <input type="text"/>	<input type="text"/>	<input type="text"/>	<input type="text"/>	29. <input type="text"/>	<input type="text"/>	<input type="text"/>	<input type="text"/>	39. <input type="text"/>	<input type="text"/>	<input type="text"/>	<input type="text"/>	49. <input type="text"/>	<input type="text"/>	<input type="text"/>	<input type="text"/>
10. <input type="text"/>	<input type="text"/>	<input type="text"/>	<input type="text"/>	20. <input type="text"/>	<input type="text"/>	<input type="text"/>	<input type="text"/>	30. <input type="text"/>	<input type="text"/>	<input type="text"/>	<input type="text"/>	40. <input type="text"/>	<input type="text"/>	<input type="text"/>	<input type="text"/>	50. <input type="text"/>	<input type="text"/>	<input type="text"/>	<input type="text"/>